

## ЗАДАНИЕ 1

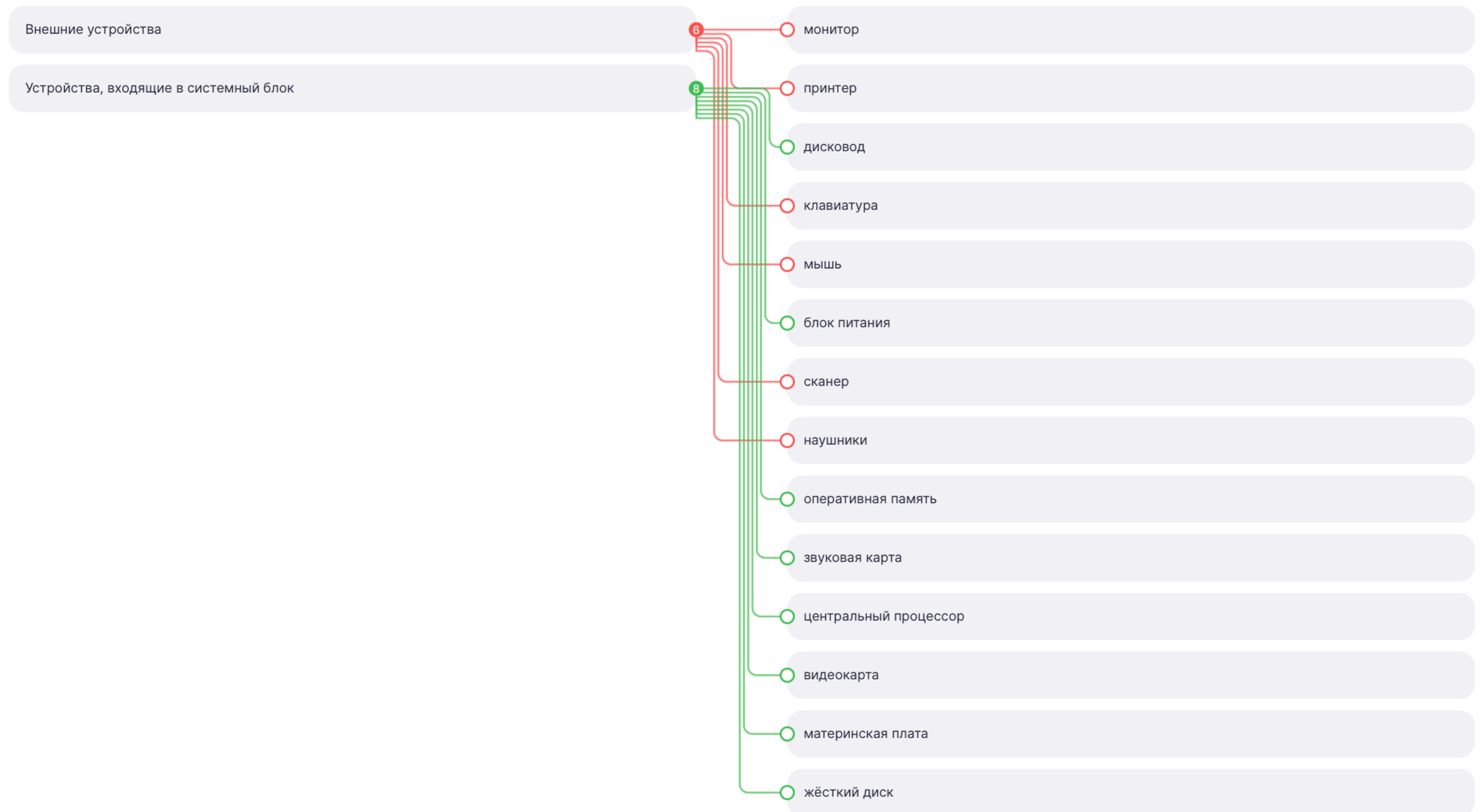
Установите соответствие между объектами двух столбцов

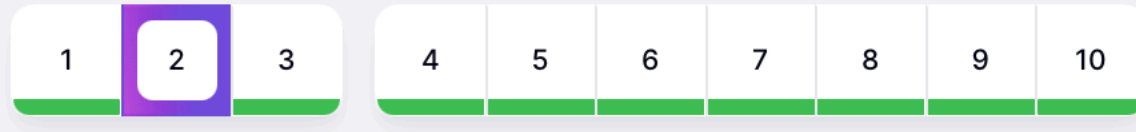
Распределите устройства на две группы:

1 группа — устройства, входящие в системный блок;

2 группа — внешние устройства.

Ваш ответ **верный** +2 балла



**ЗАДАНИЕ 2**

Выберите подходящий вариант в выпадающем списке

Выберите пропущенные слова в утверждении.

**Ваш ответ верный** +2 балла

Для **вывода** звуковой информации используются акустические колонки или **наушники**, которые подключаются к **звуковой карте**.

1

2

3

4

5

6

7

8

9

10

**ЗАДАНИЕ 3**

Выберите один из нескольких вариантов

Укажите устройство, на которое выводится вся информация о работе компьютера в данный момент времени.

**Ваш ответ верный** +1 балл

 монитор проектор сканер принтер

1

2

3

4

5

6

7

8

9

10

**ЗАДАНИЕ 4**

Выберите один из нескольких вариантов

Какое устройство предназначено для хранения информации во время работы компьютера?

**Ваш ответ верный** +1 балл

- флеш-память
- оперативная память
- жёсткий диск
- магнитный диск

1

2

3

4

5

6

7

8

9

10

**ЗАДАНИЕ 5**

Выберите один из нескольких вариантов

Выберите устройство длительного хранения больших объёмов информации.

Ваш ответ верный +1 балл

флеш-память

жёсткий диск

оперативная память

кеш-память

1

2

3

4

5

6

7

8

9

10

**ЗАДАНИЕ 6**

Выберите один из нескольких вариантов

Откуда извлекается необходимая информация при загрузке компьютера?

**Ваш ответ верный +1 балл**

- из флеш-памяти
- из внешнего запоминающего устройства
- из оперативной памяти
- из постоянного запоминающего устройства

1

2

3

4

5

6

7

8

9

10

**ЗАДАНИЕ 7**

Выберите один из нескольких вариантов

Выберите устройство, осуществляющее анализ и выполнение команд.

**Ваш ответ верный** +1 балл

оперативная память

материнская плата

процессор

жёсткий диск

1

2

3

4

5

6

7

8

9

10

**ЗАДАНИЕ 8**

Впишите в пропуски подходящее по смыслу слово (без учета регистра)

Впишите пропущенные в тексте слова.

**Ваш ответ верный** +2 балла

Основной частью персонального компьютера является  блок. В нём находятся: материнская плата, центральный процессор,  память, жёсткий диск, блок питания и карты расширений (звуковая карта, сетевая карта, ).

1

2

3

4

5

6

7

8

9

10

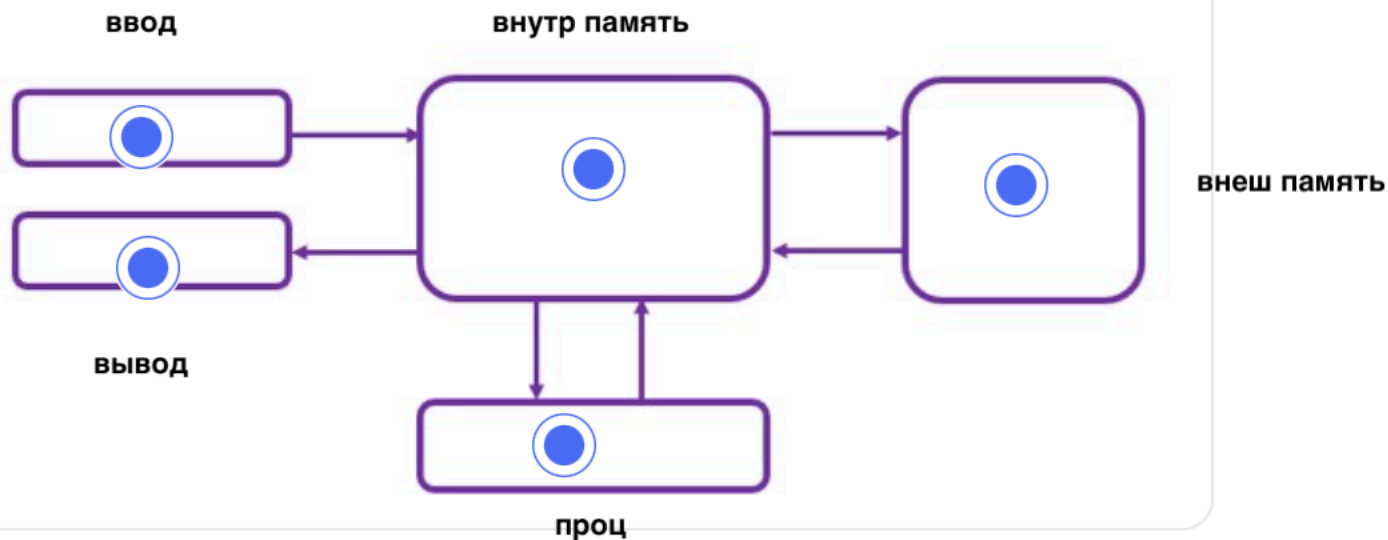
**ЗАДАНИЕ 9**

Выберите подходящий вариант/варианты в выпадающем списке на изображении

Заполните правильно схему информационных потоков в компьютере.

Ваш ответ **верный** +3 балла

### Схема информационных потоков в компьютере





### ЗАДАНИЕ 10

Установите соответствие между объектами двух столбцов

Соедините изображения устройств персонального компьютера и их названия.

Ваш ответ верный +2 балла



- 1 процессор
- 1 оперативная память
- 1 материнская плата
- 1 блок питания
- 1 жёсткий диск